




# 倍的认识

## 课后作业

### 基础训练

#### 1. 小小神算手。



#### 2. 填一填。

2 的 5 倍是( )个( )。

3 的 4 倍是( )个( )。

4 的 5 倍是( )个( )。

7 的 3 倍是( )个( )。

7 个 2 是( )的( )倍。

6 个 3 是( )的( )倍。

9 的 3 倍是( )。

3 的 5 倍是( )。

8 个 3 是( )的( )倍。

4 个 7 是( )的( )倍。

6 的 4 倍是( )。

2 的 8 倍是( )。

#### 3. 画一画,填一填。

(1)☆☆☆☆

△的个数是☆的 4 倍,请在横线上画出△。

(2)○○○○

△是○的 3 倍,请在横线上画出△。

#### 4. 圈一圈,再填空。



☆去掉( )个就是△的 2 倍。

☆增加( )个就是△的 3 倍。

#### 5.

<p>数是 的 倍。</p> <p><input type="text"/> ○ <input type="text"/> = <input type="text"/></p>	<p>6只      30只</p> <p>数是 的 倍。</p> <p><input type="text"/> ○ <input type="text"/> = <input type="text"/></p>
--	---



6. (1) 叶子: 

花朵: 



 是  的 ( ) 倍 算式:  $\square \bigcirc \square = \square$

(2) 虫子: 







小鸡: 



 是  的 ( ) 倍 算式:  $\square \bigcirc \square = \square$

### 拓展提高

7.  的身高是  的  $\square$  倍。  
 $\square \bigcirc \square = \square$

8. 下图是气象表。



(1)  ( ) 天,  ( ) 天,

 ( ) 天。

(2)  的天数是  的 ( ) 倍。

$$\square \bigcirc \square = \square$$

(3) 请你自己提出一个数学问题并回答。

9.  24元  8元

(1) 鞋子的价钱是帽子的几倍?

$$\square \bigcirc \square = \square$$

(2) 操场上跳绳的有 4 人, 踢足球的人数是跳绳的人数的 6 倍, 踢足球的有多少人?

$$\square \bigcirc \square = \square (\text{人})$$

(3)



①鸭有多少只？

$$\square \bigcirc \square = \square (\text{只})$$

②鹅有多少只？

$$\square \bigcirc \square = \square (\text{只})$$

10. 列式计算。

(1) 7 的 8 倍是多少？

(2) 27 是 3 的多少倍？

(3) 9 的 3 倍是多少？

(4) 18 是 6 的多少倍？

11. 解决问题。

(1) 小方买了 5 包薯片, 每包 3 元, 一共用了多少钱？

(2) 一瓶可乐 4 元钱, 小明要买 6 瓶可乐, 带 25 元够吗？

(3) 王阿姨养了 18 条金鱼, 每个鱼缸养 6 条鱼, 需要几个鱼缸？


(4) 把 12 朵花送给 3 位老师, 平均每位老师得到几朵花？

(5) 饲养组养了 72 只母鸡, 9 只公鸡。鸭的只数是公鸡的 6 倍, 养鸭多少只?

(6) 24 个小朋友吃晚饭, 每人用一个饭碗, 平均 3 个人共用一个菜碗, 平均 4 个人共用一个汤碗, 这顿晚饭一共用了多少个碗?

### 发散思维

12.



(1) 大客车上  位乘客。      (2) 小轿车上有  位乘客。

13. 明明今年 4 岁, 妈妈的年龄是明明的 7 倍。

(1) 今年妈妈多少岁?

(2) 再过 2 年, 妈妈的年龄是明明的几倍?